



# ORDU İL MİLLÎ EĞİTİM MÜDÜRLÜĞÜ

## PROJE İMAM HATİP ORTAOKULLARI SEÇME SINAVI 2023

# A

Kitapçığı

Adı Soyadı: .....

Okulu: .....

| DERS ADI                     | SORU SAYISI | TOPLAM SORU SAYISI | SINAV SÜRESİ (DAKİKA) |
|------------------------------|-------------|--------------------|-----------------------|
| Türkçe                       | 15          | 75                 | 100                   |
| Sosyal Bilgiler              | 10          |                    |                       |
| Din Kültürü ve Ahlak Bilgisi | 10          |                    |                       |
| Yabancı Dil (İngilizce)      | 10          |                    |                       |
| Matematik                    | 15          |                    |                       |
| Fen Bilimleri                | 15          |                    |                       |

**SINAV BAŞLAMADAN ÖNCE ARKA KAPAKTAKİ YÖNERGEYİ MUTLAKA OKUYUNUZ!**

Her hakkı saklıdır. Yazılı izin olmadan çoğaltılamaz, yayımlanamaz veya başka bir amaçla kullanılamaz.

Bu testte 15 soru vardır.

Cevaplarınızı, optik forma işaretleyiniz.

1. Toplumsal şartlar ve ihtiyaçlar değiştikçe geleneksel çözüm yollarının sağladığı doyum düzeyi de azalır ve değişir. Değişen şartlar karşısında ortaya çıkan ihtiyaçları karşılayacak ve sorunları çözecek yeni yöntemler veya araçlar oluşturulur. Kültür, yeni ihtiyaçlar ve sorunlar karşısında insanların geliştirdikleri yeni fikirler ve icatlarla değişime uğrar.

**Bu metinde anlatılmak istenen aşağıdakilerden hangisidir?**

- A) Kültür nesilden nesile aktarılan bir kaynaktır.
- B) Kültürel değerler toplumun temelini oluşturur.
- C) Kültür gereksinimlere göre değişen bir yapıya sahiptir.
- D) Kültür gelenek ve göreneklerin insandaki yansımasıdır.

2. Aşağıdaki cümlelerin hangisi hayalî öge içermektedir?

- A) Bembeyaz karlarla örtülmüştü yeryüzünün her yeri.
- B) Yanından hiç ayırmadığı günlüğü ortadan kaybolmuştu.
- C) Saksıdaki beyaz, sarı, kırmızı çiçekler tomurcuklanmıştı.
- D) Bahçedeki zerdali ağacı çocukluğumu anlatıyordu bana.

3. Aşağıda verilen anlam olayı ve eşleştirmelerinden hangisi **yanlıştır**?

- A) Şimdiye kadar okuduğu en ilginç kitaptı, bu. (Karşılaştırma)
- B) Çığ gibi büyüyen listeyi görünce çok şaşırıldık. (Benzetme)
- C) Aniden telaşlandı çünkü plansızlığı sevmezdi. (Amaç)
- D) Memleketim ayrı bir güzeldir: havası, suyu, toprağı... (Örneklendirme)

4. Çalışırken şu üç şeyi sakın unutma( ) zamanı planlamayı( ) ara ara öğrendiklerini yoklamayı( ) hedeflerine ulaşım ulaşmadığını( )

**Yukarıdaki cümlede yay ayraçla gösterilen yere sırasıyla hangi noktalama işareti getirilmelidir?**

- A) (;) (,) (,) (.)
- B) (:) (,) (,) (.)
- C) (,) (,) (,) (...)
- D) (:) (,) (,) (...)

5. "Yalnız taştan duvar olmaz." atasözünün benzer anlamlısı aşağıdakilerden hangisidir?

- A) Birlikten kuvvet doğar.
- B) Taş düştüğü yerde ağırdır.
- C) Zahmetsiz rahmet olmaz.
- D) Öfkeyle kalkan zararlar oturur.

6. Zeytin ağacı, narin bir ağaçtır. Ağır ve zahmetli büyümesine karşın oldukça uzun ömürlüdür. Bir zeytin ağacının ortalama ömrü 300 - 400 yıldır. Ancak bin, hatta 3 bin yaşında zeytin ağaçlarına da rastlanmıştır. Bu nedenle zeytin ağacının adı mitolojide “ölümsüz ağaç”tır. Zeytin ağacı için en verimli ortam yazları sıcak, kışları ise ılıman geçen iklimlerdir. Ortalama boyu 4 - 10 m olan zeytin ağacı bir yıl bol, bir yıl az ürün verir. Çiçek verme mevsimi kuzey yarım kürede nisan - haziran ayları arasındadır. Ağustos ayı sonundan kasım ayı başına kadar olan süre içinde ise olgunlaşır.

**Bu metinde zeytin ağacıyla ilgili hangisine değinilmemiştir?**

- A) Yapısal özelliklerine
- B) Yetiştirme koşullarına
- C) Ürün oluşma zamanına
- D) Farklı ağaç türlerine

7.



**Görsele en uygun slogan hangisidir?**

- A) Çevreni koru, yaşamı koru.
- B) Çöpler doğaya değil, çöpe.
- C) Sağlıklı ol, mutlu yaşa.
- D) Doğayı sev, barışı destekle.

8. Yazım kurallarıyla ilgili bazı bilgiler verilmiştir.

- Kitap, dergi, gazete ve sanat eserlerinin (tablo, heykel, beste vb.) her kelimesi büyük harfle başlar.
- Gezegen ve yıldız adları büyük harfle başlar.
- Belirli bir tarih bildiren ay ve gün adları büyük harfle başlar.
- Mahalle, meydan, bulvar, cadde, sokak adlarında geçen mahalle, meydan, bulvar, cadde, sokak kelimeleri büyük harfle başlar.

**Buna göre aşağıdakilerin hangisinde yazım yanlışı vardır?**

- A) Tüm çocuklar Onuncu Yıl Marşı'nı büyük bir coşkuyla söyledi.
- B) Kardeşim 2 Temmuz cuma günü gözlerini dünyaya açtı.
- C) Okulumuz Terzili Mahallesi'nin en güzel yerindeydi.
- D) Dünya, Güneş etrafındaki hareketini 365 günde tamamlar.

9. “Doldurmak” sözcüğü aşağıdaki cümlelerin hangisinde “canlılık kazandırmak” anlamında kullanılmıştır?

- A) On yaşını dolduralı henüz üç ay olmuştu.
- B) Elindeki işlerle zaman doldurmaya çalışıyordu.
- C) Bebek; sesiyle, gülüşüyle, varlığıyla tüm evi doldurdu.
- D) Aracın deposunu doldurduktan sonra yola devam ettik.

10. “İşini özenle yapan şair, geçmişi elinin tersiyle itmez.”

**Bu cümleden aşağıdakilerden hangisi çıkarılabilir?**

- A) Her şairin kendine has özelliği, dokunuşu vardır.
- B) Şair, şiirle ilgili önceden atılan adımları bilmek ister.
- C) Şair, şiirine geleceği işaret eden unsurları özenle yerleştirir.
- D) Şiir, onu oluşturan şairin hayatından izler taşır.

11. Aşağıdaki altı çizili sözcüklerden hangisi sesteşlik özelliği taşır?

- A) El elin eşeğini türkü söyleyerek çağırır.
- B) Duvarı boyadıktan sonra evi yerleştirdi.
- C) İnsanlarla iletişimi kuvvetli, fedakâr bir yöneticidir.
- D) Gitmekle kalmak arasında bir tercih yapmalıydı.

12. “İnsanoğlu özgür düşünebildiği sürece üretkendir ve üretebildiği sürece mutludur.”

**Bu cümle ile iletilmek istenen mesaj aşağıdakilerden hangisidir?**

- A) Düşüncelerin önündeki engelleri kaldırmak mutluluğu da getirir.
- B) İnsanlar belli kurallar çerçevesinde düşünmelidir.
- C) Mutlu olmak isteyen her anın kıymetini bilen kişidir.
- D) İnsanların asıl amacı hayatı dolu dolu yaşamaktır.

13. Aşağıdaki şiirlerden hangisinin ana duygusu diğerlerinden farklıdır?

- A) Seni boydan boya sevmişim,  
Ta Kars'a kadar Edirne'den.  
Toprağını, taşını, dağlarını  
Fırsat buldukça övmüşüm.
- B) Memleket isterim  
Ne başta dert, ne gönülde hasret olsun;  
Kardeş kavgasına bir nihayet olsun.  
Memleket isterim  
Ne zengin fakir, ne sen ben farkı olsun;  
Kış günü herkesin evi barkı olsun.
- C) Cedlerimin mermerde seyrettiğim yazısı.  
Bir saatin vuruşu: günün henüz yarısı.  
Çocukların koşuşu, kuşların dem çekişi  
Mesut ediyor beni vatanımın güneşi.
- D) Derinden derine ırmaklar ağlar,  
Uzaktan uzağa çoban çeşmesi,  
Ey suyun sesinden anlayan bağlar,  
Ne söyler şu dağa çoban çeşmesi.

14. Bir sözcüğün akla gelen ilk anlamına “gerçek anlam”, gerçek anlamdan tamamen uzaklaşarak sözcüğün kazandığı yeni anlama ise “mecaz anlam” denir.

**Buna göre,**

Duyguların insan hayatını

1

2

yönlendirmedeki etkisi inkâr edilemez.

Ancak bu duruma kendimizi

kaptırıp kontrolü tamamen duyguların

3

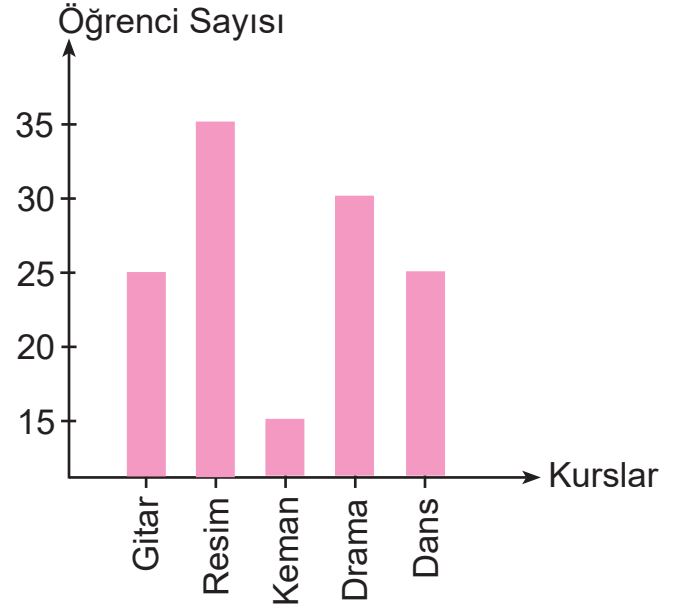
4

eline vermek doğru değildir.

**metinde numaralandırılmış sözcüklerden hangisi mecaz anlamda kullanılmıştır?**

- A) 1      B) 2      C) 3      D) 4

15. Grafikte bir sanat merkezindeki kurslara giden öğrencilerin dağılımı verilmektedir.



**Bu grafiğe göre aşağıdakilerden hangisi söylenemez?**

- A) Dansa giden öğrenci sayısı kemana giden öğrenci sayısından fazladır.
- B) Dramaya giden öğrenci sayısı resme giden öğrenci sayısından azdır.
- C) Kemanın en az öğrenciye sahip olması zor bir enstrüman olduğunu gösterir.
- D) Dans ve gitar kurslarına eşit sayıda öğrenci katılmıştır.

Bu testte 10 soru vardır.

Cevaplarınızı, optik forma işaretleyiniz.

1. Aşağıda kimlik kartımızın bazı bölümlerinde yer alan bilgiler verilmiştir.
- Kişinin erkek veya kadın olduğu bilgisi yer alır.
  - Her vatandaşın resmi işlemlerde kullandığı 11 rakamdan oluşan numara yer alır.
  - Kartın veriliş yeri, veriliş nedeni, kayıt numarası, cilt numarası, aile sıra numarası vb. bilgiler depolanır.

**Buna göre kimlik kartımızın hangi bölümünden bahsedilmemiştir?**

- A) T.C. kimlik numarası  
B) Veriliş tarihi  
C) Çip (yonga)  
D) Cinsiyet
2. Her toplumun kendine has maddi manevi değerleri vardır. Bu değerleri sonraki nesillere aktarmada kullanılan düşünce ve sanat eserleri kültürün bir parçasıdır.

**Buna göre,**

- I. Kültür toplumlara özgüdür.  
II. Bir toplumda görülen kültürel öge, başka bir toplumda görülmeyebilir.  
III. Resim, müzik vb. türler kültürel özellikleri yansıtır.

**maddelerinden hangileri doğrudur?**

- A) I ve II  
B) I ve III  
C) II ve III  
D) I, II ve III

3. Aşağıdaki haritada Millî Mücadele Dönemi'nde savaştığımız cepheler gösterilmiştir.



**Buna göre I, II ve III numaralı cephelerde sırasıyla hangi devletlerle savaşılmıştır?**

- A) Yunanlılar - Ermeniler - Fransızlar  
B) Fransızlar - Yunanlılar - Ermeniler  
C) Ermeniler - Fransızlar - Yunanlılar  
D) Yunanlılar - Fransızlar - Ermeniler

4. Ulusal egemenlik, Atatürk'ün Millî Mücadele'nin ilk günlerinden itibaren açıkça ortaya koyduğu, ısrarla vurguladığı temel bir ilkedir. Ulusal egemenliğe dayalı yönetim, milletin kendi kendisinin buyurucusu olması, kendi kendine sahip çıkması ve kendi iradesine dayalı bir yönetim anlamına gelir.

**Buna göre ulusal egemenlik kavramı aşağıdakilerden hangisi ile doğrudan ilgilidir?**

- A) TBMM'nin açılması  
B) Atatürk'ün Samsun'a çıkması  
C) Millî Mücadele'nin başlaması  
D) Kurtuluş Savaşı'nın sona ermesi

5. Aşağıda doğal afetlerden bazılarıyla ilgili bir tablo verilmiştir.

| Afet İsmi | Özelliği  |
|-----------|---|
| I         | Aşırı yağın yağmurdan sonra ya da ilkbaharda karların birden erimesi sonucu oluşur.                         |
| II        | Çok kar yağın ve eğimin fazla olduğu yerlerde büyük kar kütlelerinin aşağıya doğru yuvarlanmasıyla oluşur.  |
| III       | Fazla yağış alan ve eğimli arazilerde oluşur.   |
| IV        | Yer kabuğunu oluşturan toprağın su, rüzgâr gibi etkilerle aşınarak bir yerden bir yere taşınmasıyla oluşur. |

**Buna göre sırayla I, II, III ve IV numaralı yerlere hangileri gelmelidir?**

- A) Sel - Çığ - Heyelan - Erozyon  
 B) Çığ - Heyelan - Erozyon - Sel  
 C) Sel - Erozyon - Heyelan - Çığ  
 D) Çığ - Sel - Heyelan - Erozyon

6. Aşağıda vatandaşların temel ve sosyal ihtiyaçlarını karşılayan bazı kurumlar verilmiştir.

- I. Sağlık Bakanlığı  
 II. Adalet Bakanlığı  
 III. Turizm Bakanlığı  
 IV. Millî Eğitim Bakanlığı

**Bu kurumlardan kaç tanesi temel ihtiyaçlarımızı karşılar?**

- A) 1      B) 2      C) 3      D) 4

7. Bilinçli tüketici davranışlarını; alışveriş öncesi, alışveriş anı, tasarrufa yönelik ve alışveriş sonrası davranışlar olmak üzere dörde ayırabiliriz.

**Buna göre aşağıdakilerden hangisi alışveriş sonrasında dikkat edilecek davranışlardandır?**

- A) Su, elektrik gibi kaynakları dikkatli kullanırım.  
 B) Kâğıtları, plastikleri ve cam şişeleri geri dönüşüm kutusuna atarım.  
 C) Alacağım ürünün CE damgası olup olmadığına bakarım.  
 D) Alışveriş yapacağım zaman mutlaka liste yaparım.

8. Haritada Türkiye'nin komşusu olan ülkeler numaralarla gösterilmiştir.



- Türkiye'nin kuzeybatısında, Avrupa kıtasındadır. Başkenti Sofya'dır. Sınır kapımızın adı Kapıkule'dir.
- Türkiye'nin güneyinde, Asya kıtasında yer alır. Başkenti Şam'dır. Sınır kapımızın adı Cilvegözü'dür.

**Verilen bilgilere göre ülkemize komşu iki ülke haritada hangi numaralarla gösterilmiştir?**

- A) 4-8      B) 2-7      C) 1-8      D) 1-5

9. Aşağıda çocuk hakları ile ilgili bilgiler verilmiştir.

### ÇOCUK HAKLARI

Çocuk Hakları, dünyadaki tüm çocuklara verilen hakların bütünüdür.



Beslenme,  
barınma ve  
sağlık

Göktuğ



Bir kimliğe  
sahip olma

Tuana



Sosyal  
etkinliklere  
katılma

Kerem



Görüşlerini  
özgürce ifade  
etme

Burak

Çocukların kartlarında yazanlarla ilgili eşleştirmelerden hangisi yanlıştır?

- A) Göktuğ - Yaşama hakkı
- B) Tuana - Vatandaş olma hakkı
- C) Kerem - Eğitim hakkı
- D) Burak - Düşünceyi açıklama hakkı

10. İnsanlar için kullanım değeri kalmayan, hasar görmüş, bozuk, tamir edilemez durumda olan elektronik aletlere *e-atık* denir.



Dijital teknolojilerdeki hızlı değişim nedeniyle günlük hayatta kullandığımız elektronik cihazların ömrü gittikçe kısalıyor. Bu durumun olumsuz sonucu ise elektronik atıklar... Elektronik cihazlarımız eskidiğinde ya da bozulduğunda bu cihazları genellikle birkaç yıl saklamayı tercih ediyoruz. Ancak zaman geçtikçe bu cihazların üretiminde kullanılan teknolojiler sürekli değiştiğinden geri dönüştürülmeleri zorlaşıyor. Dolayısıyla kullanmadığımız elektronik cihazları en kısa sürede geri dönüşüm kutularına atmak en doğru yol. Çünkü içerdikleri tehlikeli maddeler, doğaya ve insanlara zarar verir.

**Bu bilgilere göre e-atıkla ilgili aşağıdakilerden hangisi çıkarılabilir?**

- A) Geri dönüşümü doğru yapılamayan e-atıklar doğayı ve insan sağlığını olumsuz etkiler.
- B) e-atıkların uluslararası standartlara uygun şekilde işleme tabi tutulması gerekir.
- C) Elektronik cihazlarımız bozulduğunda beklemeden çöpe atmalıyız.
- D) e-atıklar ambalaj atıklarına göre daha kolay toplanabilir.



Bu testte 10 soru vardır.

Cevaplarınızı, optik forma işaretleyiniz.

1. Allah'ın sevgisini kazanmak hem de insanlarla olan ilişkilerimizde doğru bir yol izlemek için günlük hayatımızda kullandığımız bazı dinî ifadeler aşağıda verilmiştir.

**Agâh:** Yolculuğa çıkan birine "Allah'a emanet ol!" derim.

**Azra:** Bebeği olan bir aileye "Allah bağışlasın." derim.

**Ceyda:** Yapacağım bir iş için "İnşallah." derim.

**Cihat:** Yemeğe başlarken "Elhamdülillah!" derim.

**Buna göre çocuklardan hangisi dinî ifadeyi yanlış kullanmıştır?**

- A) Agâh  
B) Azra  
C) Ceyda  
D) Cihat

2. "Âmentü Duası"nın anlamı şu şekildedir: "Allah'a, meleklerine, kitaplarına, peygamberlerine, ahiret gününe, kadere, hayır ve şerrin Allah'tan geldiğine inandım. Öldükten sonra diriliş haktır. Allah'tan başka ilah olmadığına, Hz. Muhammed'in O'nun kulu ve elçisi olduğuna şahitlik ederim."

**Bu metinde hangisinden bahsedilmemiştir?**

- A) İslamın şartları  
B) Kelime-i şehadet  
C) İmanın şartları  
D) Kelime-i tevhid

3. Dinî kavramlar ve anlamlarının verildiği aşağıdaki tabloda hata yapılmıştır.

|       |   |
|-------|---|
| Sevap | Kişinin iman, ibadet, ahlak ve tüm güzel davranışlarının karşılığı olarak Yüce Allah tarafından kendisine verilen mükâfattır. |
| Günah | Allah'ın yapılmasını kesin olarak yasakladığı söz ve davranışlardır.  |
| Helal | Yüce Allah'ın izin verdiği ve serbest bıraktığı iş ve davranışlardır.   |
| Haram | İslam dininin emir ve yasaklarına aykırı davranılmasının karşılığıdır.  |

**Buna göre tablodaki hatayı düzeltmek için hangi kavramların yerlerinin değiştirilmesi gerekmektedir?**

- A) Günah - Helal  
B) Günah - Haram  
C) Sevap - Helal  
D) Sevap - Haram

4. Peygamber Efendimiz Cahiliye Dönemi'nde yaşanan bütün olumsuzluklara rağmen kendini koruyabilmiş ve toplumunda örnek gösterilen bir kişi olarak ön plana çıkmıştır. Onun bu örnek kişiliğinden dolayı toplumu Peygamberimize "Muhammedül Emin" ismini vermiştir.

**Peygamberimize "Muhammedül Emin" lakabının verilmesinin sebebi aşağıdakilerden hangisidir?**

- A) Her zaman doğru ve dürüst olması  
B) Güler yüzlü biri olması  
C) İnsanlara karşı merhametli olması  
D) Komşularına iyi davranması

5. Allah Teâlâ, insanları yanlışlıklardan kurtarıp doğru yola iletmek için birçok peygamber göndermiştir. Bu peygamberlerden bazılarında da ilahi kitaplar göndermiştir. İlahi kitaplarda, insanları doğru yola iletmek amacıyla pek çok ilahi bilgiye yer verilmiştir. Bu bilgilerle insanlara; inanç esaslarını, Allah'a karşı görev ve sorumluluklarını, yapmaları gereken doğru, iyi ve güzel davranışları öğretmeye çalışmıştır.

**Bu parçaya göre Allah ilahi kitaplarda,**

- I. iman
- II. ibadet
- III. ahlak

**konularından hangileriyle insanlara yol göstermeyi amaçlamıştır?**

- A) I ve II
- B) I ve III
- C) II ve III
- D) I, II ve III

6. Aşağıda Fatıha suresi karışık şekilde verilmiştir.
- A: Errahmânir-rahîm,  
 B: Sırâtallezîne en'amte aleyhim, ğayril mağdûbi aleyhim veleddâllîn.  
 C: İhdinas-sırâtal müstakîm,  
 D: Elhamdü lillâhi rabbi'l âlemin,  
 E: Bismillâhirrahmânirrahîm  
 F: İyyâke na'büdü ve iyyâke nestaîn,  
 G: Mâliki yevmiddîn,

**Buna göre Fatıha suresinin okunuşu ile ilgili doğru sıralama hangisidir?**

- A) E-A-B-C-D-F-G
- B) E-A-D-G-F-C-B
- C) E-D-A-F-G-C-B
- D) E-D-A-G-F-C-B

7. Hz. Peygamber, bir hadisinde "Müslüman"ı şöyle ifade etmiştir: "Müslüman, elinden ve dilinden diğer Müslümanların emin olduğu kişidir."

**Verilen hadiste Müslüman'da olması gereken hangi ahlaki özellik vurgulanmıştır?**

- A) Nezaket
- B) Sevgi
- C) Güvenilirlik
- D) Yardımseverlik

8. Aşağıda Hz. Muhammed (s.a.v.) ile ilgili bazı bilgiler verilmiştir.

- I. Ehl-i Beyt, Hz. Muhammed'in (s.a.v.) ailesini tanımlamak için kullanılan bir kavramdır.
- II. Peygamberimiz 25 yaşında peygamber olmuştur.
- III. Hz. Muhammed'in (s.a.v.) Veda Hutbesi, sadece Medinelileri ilgilendiren temel ilkeleri içerir.

**Buna göre verilen bilgilerden hangileri doğrudur?**

- A) Yalnız I
- B) I ve II
- C) I ve III
- D) II ve III

9. Temiz olmak, güzel ahlaklı bir insan olmanın da gereğidir. Temiz olmak; yalan, hile, iftira, dedikodu, yalancı şahitlik gibi kötülüklerden; kin, nefret, intikam, düşmanlık gibi kötü duygulardan arınmaktır.

**Metne göre anlatılan temizlik hangisidir?**

- A) Maddi temizlik
- B) Manevi temizlik
- C) Beden temizliği
- D) Elbise temizliği

10. Aşağıdaki metinde dinimize göre abdest alırken yapılması gerekenler anlatılmıştır.

Niyet edip besmele çekildikten sonra üç kere ellerimizi yıkamak. Ağzımızı ve burnumuzu üç kere yıkamak. Yüzümüzü saç bitiminden çene altına kadar üç kere yıkamak. Başımızın dörtte birini mesh etmek. Ardından kulaklarımızı ve boynumuzu mesh etmek. Son olarak da ayaklarımızı topuklarla birlikte yıkamak.

**Buna göre abdest alırken aşağıdakilerden hangisinin yıkanması unutulmuştur?**

- A) Ağız
- B) Baş
- C) Kollar
- D) Ayaklar

Bu testte 10 soru vardır.

Cevaplarınızı, optik forma işaretleyiniz.

**1 - 6. sorularda boş bırakılan yere uygun gelen kelime veya ifadeyi işaretleyiniz.**

1. ■ : I can drive a car. It is ---- car.

● : She can fly a kite. It is ---- kite.

▲ : He can ride a bike. It is ---- bike.

- |        |     |     |   |
|--------|-----|-----|---|
|        | ■   | ●   | ▲ |
| A) my  | his | her |   |
| B) his | she | my  |   |
| C) my  | her | his |   |
| D) her | she | he  |   |

2. ■ : He ---- riding a bike.

● : They ---- watching cartoons.

▲ : ---- you like reading comics?

◆ : ---- she like drawing pictures?

- |          |       |      |      |   |
|----------|-------|------|------|---|
|          | ■     | ●    | ▲    | ◆ |
| A) like  | likes | does | do   |   |
| B) likes | like  | do   | does |   |
| C) likes | like  | does | do   |   |
| D) like  | likes | do   | does |   |

3. ---- red and yellow, you get orange.

- A) Plant  
B) Cut  
C) Mix  
D) Fold

4. ■ : I brush my teeth ---- the mornings.

● : I go shopping ---- Saturdays.

▲ : I wake up ---- seven o'clock.

- |       |    |    |   |
|-------|----|----|---|
|       | ■  | ●  | ▲ |
| A) in | at | on |   |
| B) on | in | at |   |
| C) at | on | in |   |
| D) in | on | at |   |

5. Jack : What does your brother do?

Mike : He is a waiter.

Jack : Where does he work?

Mike : He works at a ----.

- A) post office  
B) school  
C) fire station  
D) restaurant

6. ■ : I am ----. → I want a sandwich.

● : I am ----. → I want some water.

▲ : I am ----. → I don't want anything.

- |            |         |         |   |
|------------|---------|---------|---|
|            | ■       | ●       | ▲ |
| A) hungry  | thirsty | full    |   |
| B) thirsty | full    | hungry  |   |
| C) hungry  | full    | thirsty |   |
| D) thirsty | hungry  | full    |   |

7. Eda: How many books are there?

Ayşe: ----.

Eda: May I come in?

Ayşe: ----.

Eda: Can you give me the ruler, please?

Ayşe: ----.

**Verilen diyalogda boş bırakılan yerlere aşağıdaki seçeneklerden hangisi getirilemez?**

- A) Ten
- B) It is a book
- C) Yes, you may
- D) Sorry, it is broken

8. Ahmet: ----?

Tolga: It is in the west.

Ahmet: ----?

Tolga: I am Spanish.

Ahmet: ----?

Tolga: She is from Spain.

**Verilen diyalogda boş bırakılan yerlere aşağıdaki seçeneklerden hangisi getirilemez?**





- A) What nationality is he
- B) Where is she from
- C) What nationality are you
- D) Where is İzmir

9.

Hi, I'm Salih.  
I'm in Ankara now.  
It is sunny and hot.



**Salih'in verdiği bilgiye göre Ankara'da hava durumu nasıldır?**

- A) 
- B) 
- C) 
- D) 

10. Hasan: What does your friend look like?

Mehmet : He has got ----.

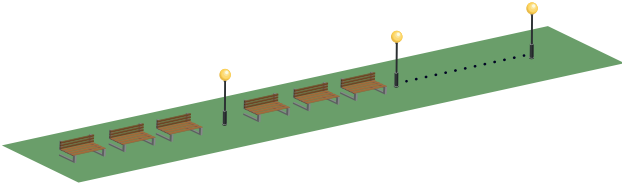
**Verilen diyalogda boş bırakılan yere aşağıdakilerden hangisi getirilemez?**

- A) curly hair
- B) a beard
- C) blue eyes
- D) tall

Bu testte 15 soru vardır.

Cevaplarınızı, optik forma işaretleyiniz.

1. Aşağıda bank ve sokak lambalarından oluşan bir sahil yolu gösterilmiştir.



Erdem, sahilde yürürken her üç banktan sonra bir sokak lambası olduğunu fark etmiştir.

**Bu sıralamaya göre aşağıdaki sayılardan hangisi bir sokak lambasına denk gelir?**

- A) 46                      B) 58  
C) 64                      D) 74

2. Aşağıda bir mobilya mağazasında satılan ürünler gösterilmiştir.

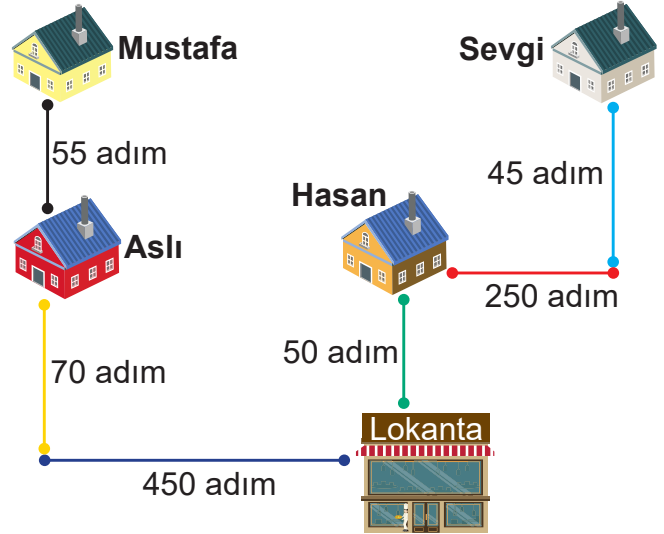


Mobilya mağazasına giden Yeşim, almak istediği ürünler için fiyatlarda indirim istiyor. Mağaza sahibi, Yeşim'in seçtiği ürünlerin fiyatını en yakın yüzlüğe yuvarlayıp tanesini 7200 TL'den veriyor.

**Buna göre Yeşim hangi ürünleri satın almıştır?**

- A) Ayna - Koltuk  
B) Ayna - Yatak  
C) Kitaplık - Koltuk  
D) Kitaplık - Yatak

3. Aşağıda adım uzunlukları eşit olan Sevgi, Hasan, Aslı ve Mustafa'nın evleri ve evlerinin lokantaya olan uzaklıklarını gösteren bir kroki çizilmiştir.

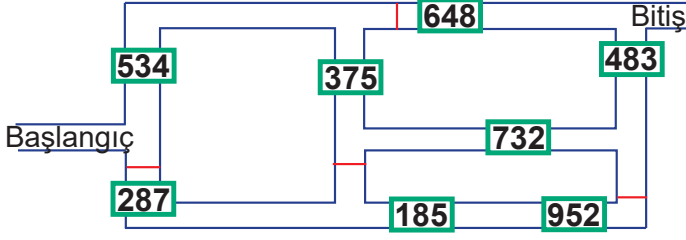


Dört arkadaş akşam yemeğini birlikte yemek için lokantada buluşmaya karar vermişlerdir.

**Buna göre dört arkadaşın lokantaya gelinceye kadar attığı toplam adım sayısı kaçtır?**

- A) 1190                      B) 1280  
C) 1350                      D) 1490

4. Aşağıdaki labirentte başlangıç noktasından bitiş noktasına kadar açık kapılar takip edilerek geçilen yol üstündeki sayılar toplanacaktır.



Buna göre labirent tamamlandığında elde edilen sayı kaçtır?

- A) 2529                      B) 2124  
C) 1874                      D) 1665

5. Aşağıda Melis'in alışveriş merkezinde yaptığı aktivite süreleriyle ilgili bilgiler verilmiştir.

| Aktivite | Süre       |
|----------|------------|
| Sinema   | 1 sa 35 dk |
| Market   | 25 dk      |
| Mağaza   | 40 dk      |
| Yemek    | 1 sa 15 dk |


Melis, saat 16.30'da alışveriş merkezine gidiyor.

Buna göre Melis alışveriş merkezinden saat kaçta çıkmıştır?

(Aktiviteler arasında geçen süreler dikkate alınmayacaktır.)

- A) 19.05                      B) 19.35  
C) 20.25                      D) 20.55

6. Dikdörtgen biçimindeki üç kumaşın uzunluklarıyla ilgili aşağıdaki bilgiler verilmiştir.

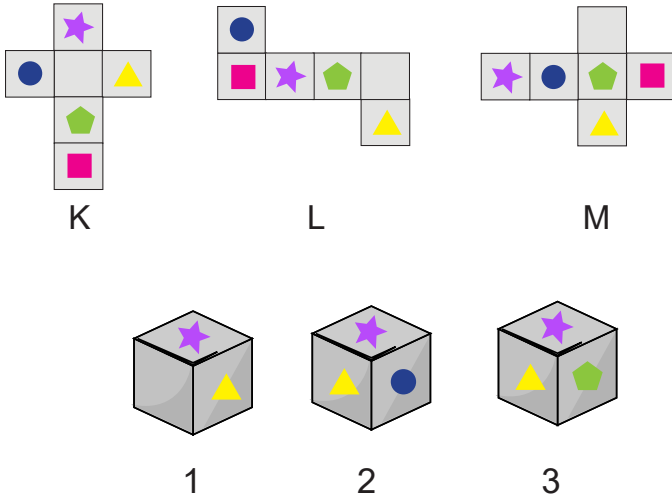


- Yeşil kumaşın uzunluğu 120 cm'dir.
- Mavi kumaş, yeşil kumaşın uzunluğunun  $\frac{3}{5}$ 'i kadardır.
- Kırmızı kumaş, mavi kumaşın uzunluğunun  $\frac{3}{4}$ 'ü kadardır.

Buna göre kumaşların toplam uzunluğu kaç santimetredir?

- A) 246                      B) 270  
C) 282                      D) 296

7. Aşağıda açılımı verilmiş olan küpler eşleştirilecektir.



Buna göre K, L ve M açınımlarının küplerle eşleştirilmesi hangi seçenekte verilmiştir?

- A) K=2 L=3 M=1    B) K=1 L=2 M=3    C) K=3 L=2 M=1    D) K=1 L=3 M=2

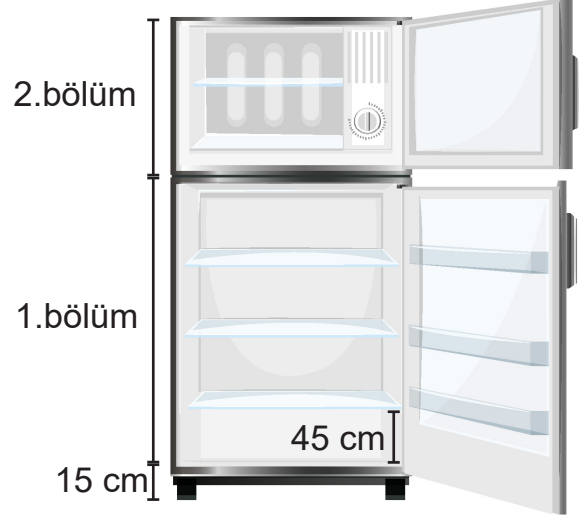
8. Bir otobüs firmasının bilet fiyatları ve yolcu sayıları aşağıdaki tablolarda verilmiştir.

|                | Bilet Fiyatları | Yolcu Sayıları |
|----------------|-----------------|----------------|
| Tam Bilet      | 180 TL          | 32             |
| Öğrenci Bileti | 120 TL          | ----           |

Otobüste 3 koltuk boş kaldığına ve bilet satışlarından elde edilen toplam gelir 7560 TL olduğuna göre otobüste toplam kaç koltuk bulunmaktadır?

- A) 47                      B) 50  
C) 55                      D) 58

9. Didem Hanım, beyaz eşya mağazasından bir buzdolabı almak istiyor. Beğendiği buzdolabının özelliklerinin aşağıdaki gibi olduğunu görüyor.



- Buzdolabının 1. bölümünde dört raf bulunmaktadır.
- 1. bölümdeki raflar arasındaki yükseklik 45 cm'dir.
- 2. bölümün yüksekliği, 1. bölümün yüksekliğinin  $\frac{2}{9}$ 'si kadardır.
- Buzdolabının ayak yüksekliği 15 cm'dir.

Buna göre Didem Hanım'ın almak istediği buzdolabının yüksekliği aşağıdakilerden hangisidir?

- A) 1 m 75 cm                      B) 1 m 95 cm  
C) 2 m 35 cm                      D) 2 m 55 cm



10. Aşağıdaki tablo bir markette satılan sıvı ürünlerin miktarlarını ve fiyatlarını göstermektedir.

**Tablo: Ürünlerin Miktarları ve Fiyatları**

| Sıvı Ürünler | Miktarı (ml) | Fiyatı (TL) |
|--------------|--------------|-------------|
| Kolonya      | 200          | 8           |
| Süt          | 250          | 6           |
| Sıvı Sabun   | 500          | 15          |
| Zeytinyağı   | 750          | 48          |

Tabloya göre marketten alışveriş yapan kişinin değerlendirmelerinden hangisi **yanlıştır**?

- A) Marketten 5000 ml kolonya alınca 200 TL ödedim.  
 B) Sütlere 48 TL ödediğime göre 2 l süt aldım.  
 C) Marketten 3 l sıvı sabun alınca 90 TL ödedim.  
 D) Zeytinyağına 60 TL ödediğime göre 1 l zeytinyağı aldım.

11. Aşağıda bir pasta yapımında kullanılması gereken ürünler ve miktarları verilmiştir.

| Malzeme Listesi ve Kullanım Miktarı |                        |
|-------------------------------------|------------------------|
| 2 kg 125 g un                       | ..... g un             |
| 1 kg 35 g şeker                     | ..... g şeker          |
| 3 g 75 mg kabartma tozu             | ..... mg kabartma tozu |
| 1 g 5 mg vanilya                    | ..... mg vanilya       |

Buna göre pastanın yapımında kullanılan ürünlerin miktarlarının doğru yazılışı hangisidir?

|    | Un (g) | Şeker (g) | Kabartma Tozu (mg) | Vanilya (mg) |
|----|--------|-----------|--------------------|--------------|
| A) | 2125   | 1350      | 375                | 105          |
| B) | 2125   | 1035      | 3075               | 1005         |
| C) | 2215   | 1035      | 3750               | 1005         |
| D) | 2125   | 135       | 3075               | 105          |

12. Televizyon satın almak isteyen Tuğçe Hanım, dört farklı teknoloji mağazasına giderek aşağıdaki taksit kampanyalarını incelemiştir.



K mağazası

L mağazası

M mağazası

N mağazası

**Bu taksit kampanyalarına göre Tuğçe Hanım'ın hangi mağazadan bir yıllık taksitle televizyon satın alması daha kârlı olur?**

A) K mağazası

B) L mağazası

C) M mağazası

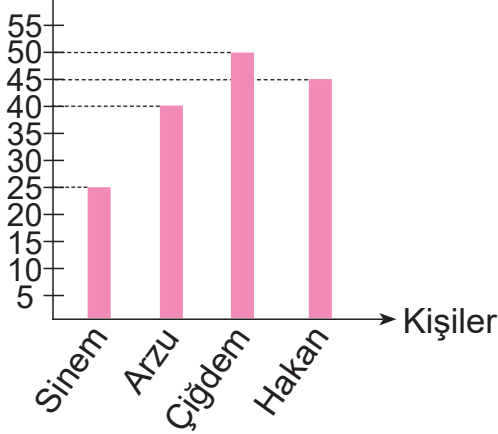
D) N mağazası

13. Dört arkadaşın bir çiçekçiden aldıkları güller ile ilgili bilgiler aşağıda verilmiştir.

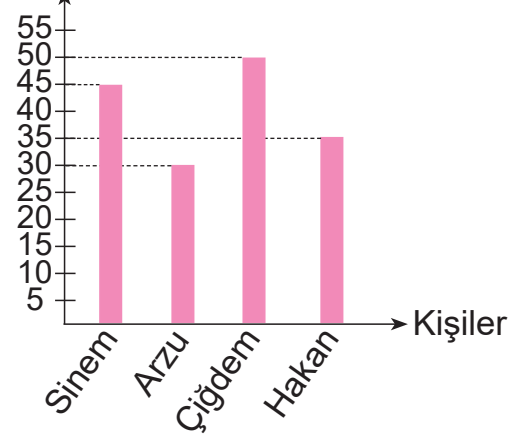
- Arzu, Sinem'den 15 gül fazla almıştır.
- Çiğdem, Arzu'dan 10 gül fazla almıştır.
- Hakan, Çiğdem'den 15 gül az almıştır.

**Verilen bilgiler kullanılarak oluşturulacak grafik aşağıdakilerden hangisidir?**

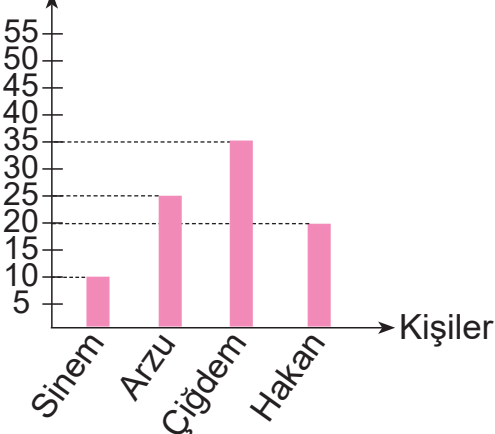
A) Gül Sayıları



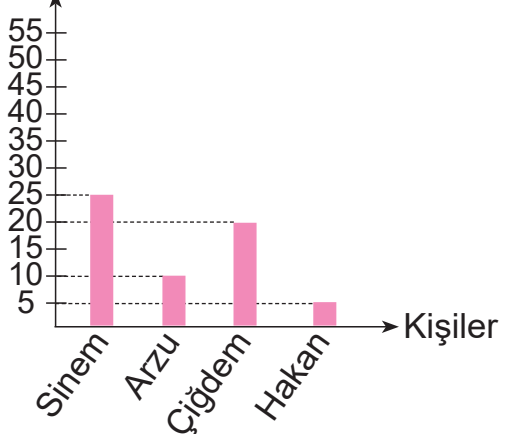
B) Gül Sayıları



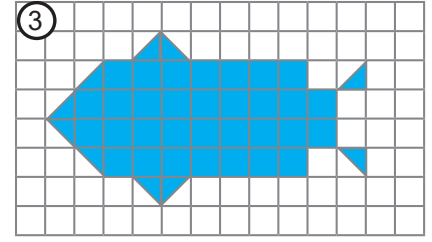
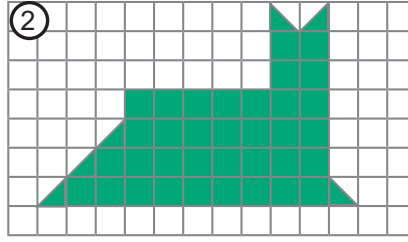
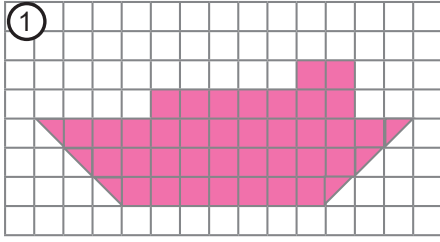
C) Gül Sayıları



D) Gül Sayıları



14. Aşağıda kareli kâğıtlar üzerine birimkarelerle çeşitli şekiller oluşturulmuştur.



Buna göre yukarıda verilen şekillerin alanlarının küçükten büyüğe sıralanmış hâli hangisidir?

- A) 1 - 2 - 3                      B) 1 - 3 - 2                      C) 2 - 3 - 1                      D) 3 - 2 - 1


15. Aşağıda bazı şehirlerin nüfus sayıları verilmiştir.

|         |         |           |          |           |           |
|---------|---------|-----------|----------|-----------|-----------|
| Ordu    | Düzce   | Çanakkale | Erzincan | Gümüşhane | Eskişehir |
| 763 190 | 405 131 | 559 383   | 239 223  | 144 544   | 906 617   |

Çocuklar, yaşadıkları şehirlerin nüfus sayılarıyla ilgili ipuçları veriyor:

 : Yüz binler basamağı ile yüzler basamağında aynı rakam vardır.

 : Yüzler basamağındaki rakamın basamak değeri ile sayı değeri arasındaki fark 594'tür.

 : Binler bölüğündeki rakamların sayı değerleri toplamı, birler bölüğündeki rakamların sayı değerleri toplamından küçüktür.

 : Birler bölüğündeki rakamların sayı değerleri toplamı en küçüktür.

Buna göre çocuklar ile yaşadıkları şehirler arasında yapılan doğru eşleşme hangisidir?



- |              |           |           |           |
|--------------|-----------|-----------|-----------|
| A) Erzincan  | Eskişehir | Gümüşhane | Düzce     |
| B) Gümüşhane | Ordu      | Düzce     | Çanakkale |
| C) Erzincan  | Çanakkale | Gümüşhane | Eskişehir |
| D) Ordu      | Düzce     | Çanakkale | Eskişehir |

Bu testte 15 soru vardır.

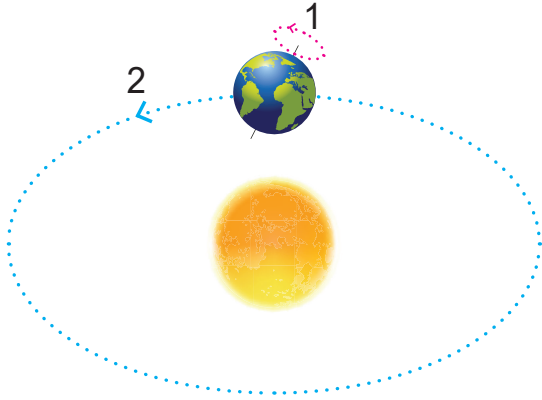
Cevaplarınızı, optik forma işaretleyiniz.

1. Geçmişte yaşamış bazı canlıların günümüze kadar korunmuş kalıntı veya izlerine fosil denir.

**Aşağıda fosillerle ilgili verilen bilgilerden hangisi yanlıştır?**

- A) Fosilleşmenin oluşabilmesi için canlı kalıntısının hava ile temasının kesilmesi gerekir.
- B) En alttaki kayaç tabakasındaki fosiller, üst tabakadakilere göre daha yenidir.
- C) Kayaçlar dışında buzullarda ve bitki reçinesi içinde de fosilleşme meydana gelebilir.
- D) Fosiller, nesilleri tükenmiş bazı canlılar hakkında bilgi sahibi olmamızı sağlar.

2. Aşağıda Dünya'nın hareketleri gösterilmiştir.



**Buna göre ifadelerden hangisi doğrudur?**

- A) 1. hareket dolanma hareketidir ve sonucunda mevsimler oluşur.
- B) 2. hareket dolanma hareketidir ve sonucunda gece-gündüz oluşur.
- C) 1. hareket dönme hareketidir ve sonucunda gece-gündüz oluşur.
- D) 2. hareket dönme hareketidir ve sonucunda mevsimler oluşur.

3. Canlıların yaşamsal faaliyetlerini sürdürebilmelerini sağlayan yiyecek ve içeceklere besin denir.

**Vücudumuzda yapıcı onarıcı olarak görev yapan besin grubu ile ilgili hangisi yanlıştır?**

- A) Büyüyüp gelişmemizde etkilidir.
- B) Tüm besin gruplarında bulunur.
- C) Bazı vitamin ve antikorların yapımında görev alır.
- D) Gereğinden fazla alınır bazı hastalıklar ortaya çıkabilir.

4. Besin piramidi günlük besin ihtiyacımızı belirlemek için oluşturulmuştur.

**Aşağıdakilerden hangisi besin piramidinde diğerlerinden daha üst basamakta bulunur?**

- A) Tereyağı
- B) Ekmek
- C) Karpuz
- D) Yumurta

5. İnsanoğlu, yüzyıllardır besinleri uygun koşullarda saklamak için çeşitli yöntemler bulmuştur.

**Buna göre,**

- I. tuzlama
- II. kurutma
- III. dondurma

**hangileri besinleri uygun saklama yöntemlerindedir?**

- A) I ve II                      B) I ve III  
C) II ve III                    D) I, II ve III

6. Demir, nikel, kobalt gibi metalleri çeken ve etrafında manyetik alan üreten nesnelere mıknatıs denir.

**Mıknatıslar günlük yaşamda,**

- I. pusula
- II. maglev treni
- III. elektrik motoru

**hangilerinde bulunur?**

- A) Yalnız I                    B) I ve III  
C) II ve III                    D) I, II ve III

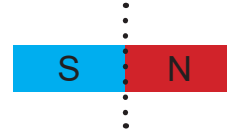
7. Bir öğrenci, kuvvetin cisimler üzerindeki etkilerini defterine not alıyor.

- I. Şekil değiştirme
- II. Kütle arttırma
- III. Döndürme
- IV. Yön değiştirme

**Öğrencinin aldığı notlardan hangisi yanlıştır?**

- A) I      B) II      C) III      D) IV


8. Bir öğrenci, mıknatısını tam ortadan ikiye bölüyor.



**Son durumda öğrencinin elinde bulunan iki mıknatısın kutupları hangisi gibi olur?**

- A) S N   S N  
B) S S   N N  
C) N N   S S  
D) S N   N N

9. Bir kap, boşken ve içinde meyve suyu varken tartılıyor.



**Buna göre,**

- I. Kullandığı kabın darası 50 g'dır.
- II. Meyve suyunun brüt kütlesi 100 g'dır.
- III. Meyve suyunun net kütlesi 150 g'dır.

**hangileri doğrudur?**

- A) Yalnız I                    B) Yalnız II  
C) I ve II                      D) I ve III

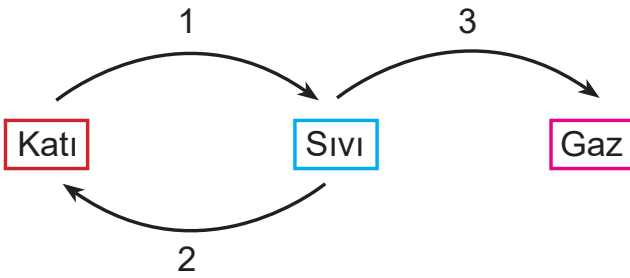
10. Aşağıda bir tablo verilmiştir.

| Katı                            | Sıvı                                | Gaz                                 |
|---------------------------------|-------------------------------------|-------------------------------------|
| a.<br>Belirli bir hacmi vardır. | b.<br>Belirli bir hacmi yoktur.     | c.<br>Belirli bir hacmi vardır.     |
| d.<br>Belirli bir şekli vardır. | e.<br>Konulduğu kabın şeklini alır. | f.<br>Konulduğu kabın şeklini alır. |

Tablonun doğru olabilmesi için hangi ikisinin yer değiştirmesi gerekir?

- A) a-b  
B) b-c  
C) d-e  
D) d-f

11. Maddelerin ısı alarak veya vererek bir hâlden başka bir hâle geçmesine hâl değişimi denir.



Verilen hâl değişimi şemasına göre hangisi yanlıştır?

- A) 1. olay erime olarak tanımlanır.  
B) 3. olay buharlaşma olarak tanımlanır.  
C) 3. olaya balkona asılan çamaşırın kurumması örnektir.  
D) 2. olaya yeryüzündeki suların bulutları oluşturması örnektir.

12. Aşağıda karışımlar ve karışımları ayırmak için uygun yöntemler verilmiştir.

|                |                       |                       |                   |
|----------------|-----------------------|-----------------------|-------------------|
| Kum + Çakıl    | <input type="radio"/> | <input type="radio"/> | Mıknatısla ayırma |
| Un + Demirtozu | <input type="radio"/> | <input type="radio"/> | Süzme             |
| Su + Piriç     | <input type="radio"/> | <input type="radio"/> | Eleme             |

Verilen karışımların uygun ayırma yöntemleriyle eşleştirilmesi hangi seçenekte verilmiştir?

- A)
- B)
- C)
- D)

13. Rahatsız edici, şiddeti yüksek ve kulağa hoş gelmeyen düzensiz seslerin yaptığı etkiye ses kirliliği denir.

Buna göre,

- I. Hava yolu gürültüleri  
II. Açık hava sinemaları  
III. Ses yalıtım malzemeleri
- hangileri ses kirliliğine sebep olur?

- A) I ve II  
B) I ve III  
C) II ve III  
D) I, II ve III

14. Işığın yanlış yerde, miktarda, yönde ve zamanda kullanılmasına ışık kirliliği denir.

**Buna göre,**

- I. Göçmen kuşların uçuş yönlerini şaşırması
- II. Yumurtadan çıkan Caretta caretta larvalarının asfalta yönelmesi
- III. Baykuş, gelincik gibi bazı hayvanların avlanırken zorlanması

**hangileri ışık kirliliğinin sonuçlarıdır?**

- |              |                 |
|--------------|-----------------|
| A) I ve II   | B) I ve III     |
| C) II ve III | D) I, II ve III |

15. Verilen malzemeler ile bir elektrik devresi kuruluyor.

- Bir ampul
- İki pil
- Bir anahtar
- Bağlantı kablosu

Kurulan devrede ampul ışık vermiyor.

**Bunun nedeni aşağıdakilerden hangisi olamaz?**

- A) Piller boştur.
- B) Kabloda kopukluk vardır.
- C) Anahtar kapalı konumdadır.
- D) Piller birbirine ters bağlanmıştır.



# ORDU İL MİLLÎ EĞİTİM MÜDÜRLÜĞÜ

## PROJE İMAM HATİP ORTAOKULLARI SEÇME SINAVI 2023

### SINAV BAŞLAMADAN ÖNCE AŞAĞIDAKİ YÖNERGEYİ MUTLAKA OKUYUNUZ!

1. Proje İmam Hatip Ortaokulları Seçme Sınavına ait bu kitapçıkta **Türkçe 15, Sosyal Bilgiler 10, Din Kültürü ve Ahlak Bilgisi 10, Yabancı Dil (İngilizce) 10, Matematik 15, Fen Bilimleri 15 soru** olmak üzere **toplamda 75 soru** bulunmaktadır.
2. Sınav süresi **100** dakikadır.
3. Öğrenciler sınav kurallarına ve gözetmenlerin uyarılarına uymak zorundadır.
4. Optik formdaki bilgilerinizi doğru şekilde doldurduğunuzu sınava başlamadan önce kontrol ediniz.
5. Sınav başladıktan sonra öğrencilerin gözetmen ve birbirleri ile konuşmaları yasaktır.
6. Cevaplarınızı optik formda ilgili soru numaralarını dikkate alarak yuvarlağın dışına taşırmadan kodlayınız.
7. Değiştirmek istediğiniz bir cevabı yumuşak bir silgi ile cevap kâğıdını yıpratmadan siliniz ve yeni cevabı kodlayınız.
8. Aynı soru için birden fazla cevap işaretlemeyiniz, tek bir cevap işaretleyiniz.
9. Soru kitapçığı üzerinde yapılıp optik formda işaretlenmeyen cevaplar değerlendirmeye alınmayacaktır.
10. Soruları cevaplamaya istediğiniz dersten başlayabilirsiniz.
- 11. Sınavda yanlış doğruyu götürmemektedir.**
12. Soru kitapçığının içindeki boş alanları soru çözümleri için kullanabilirsiniz.
13. Öğrenciler sınavdan ilk 30 dakika ve son 15 dakika dışarı çıkarılmayacaktır.
14. Sınav bitiminde, soru kitapçığı ve optik formlar gözetmen öğretmene teslim edilir.